



وزارة التربية
الادارة العامة لمنطقة الفروانية التعليمية
التوجيه الفني للاجتماعيات

مرشد
الصف السابع

أسئلة تفصيلية
للكتاب

أ. د. دلال محمد الأنصاري
موجهة فني أول اجتماعيات



الدراسات الاجتماعية
الكويت والوطن العربي
للسف السابع

أ: زينب الأشوك

أ: عهد النمشان

فريق

أ: فرح الدويخ

الاعداد:

مراجعة:

رئيسة قسم الاجتماعيات في مدرسة عمرة الأنصارية : افاطمة الصفران

اشراف عام : الموجه الفني : حمد ابراهيم البحوه

مكتب التوجيه الفني للاجتماعيات أدلال محمد الانصاري

مكتب التوجيه الفني للاجتماعيات منطقة الفروانية التعليمية



https://t.me/fr_social



@fr_social1



fr social



fr_social



<https://www.sskuwait.net/>



المقدمة :

يعد وضع أسئلة الاختبارات موضوعا حساسا، ودقيقا، إذ تشكل الأسئلة المقياس الأساسي في معرفة تطور الطالب، ومدى تحصيله الذي اكتسبه خلال دراسته للمادة، لذلك يجب أن توضع هذه الأسئلة بدقة كبيرة، بحيث تكون شاملة للمقرر الدراسي ومراعية لمستوى الطلبة، ولذلك يسرنا أن نقدم لكم استكمال لسلسلة المرشد الشامل مرشد الصف السابع مقرر دولة الكويت والوطن العربي في طبعته الثانية بعد (دليل الالكتروني للصف السابع عام ٢٠١٧/٢٠١٨ م) حيث يشمل أسئلة تفصيلية واضحة، وشاملة لجميع أسئلة بناء الاختبارات مع مراعاة معايير صياغة الاختبار والتي تم استخلاصها من ملف معايير صياغة الأسئلة المدرج في موقع التوجيه الفني للاجتماعيات ، نهدىها الى كل من احتاج اليها من متعلمين ومعلمين ورؤساء أقسام سائلين المولى - سبحانه وتعالى - أن نكون قد وفقنا في تقديم المادة وعرضها وينفع به - حفظ الله الكويت وشعبها

فريق الإعداد



الوحدة الاولى : الوطن العربي
مقومات وملامح جغرافية

١- أكمل العبارات التالية بما يناسبها فيما درست :

- ١- يمتد الوطن العربي ضمن قارتين من أكبر قارات العالم مساحتها قارتي آسيا وقارة أسماها **أفريقيا** ص ٢٢
- ٢- من السمات المشتركة التي تجمع الدول العربية الدين ولغتها أسماها **اللغة العربية** ص ٢٢
- ٣- تبلغ مساحة الوطن العربي حوالي **١٣,٥٠٠** مليون كم^٢ ص ٢٣
- ٤- تمثل مساحة الوطن العربي من جملة مساحة العالم نحو **١٠٪** ص ٢٣
- ٥- الدولة العربية التي تقع خارج نطاق موقع الوطن العربي اسمها **جمهورية جزر القمر** ص ٢٣
- ٦- العام الذي انضمت فيه جمهورية جزر القمر إلى الجامعة العربية **١٩٩٣ م** ص ٢٣
- ٧- يطلق على عاصمة جمهورية جزر القمر اسم **موروني** ص ٢٣
- ٨- البحر الذي يفصل الجناح الآسيوي عن الجناح الأفريقي اسمه **البحر الأحمر** ص ٢٤
- ٩- الدولة العربية التي يمر بها خط الاستواء اسمها **الصومال** ص ٣٢
- ١٠- الدولة العربية التي يمر بها خط جرينتش اسمها **الجزائر** ص ٣٢
- ١١- القارة المجاورة للوطن العربي من جهة الشمال اسمها **أوروبا** ص ٣٣
- ١٢- المسطح المائي الذي يحده الوطن العربي من جهة الغرب اسمه **المحيط الأطلسي** ص ٣٣
- ١٣- يشكل سكان الوطن العربي بالنسبة لسكان العالم تقريبا حوالي **٥٪** ص ٣٥
- ١٤- تنافست الدول الاستعمارية للاستيلاء على دوا الوطن العربي منذ القرن **١٨ م** ص ٣٥
- ١٥- أكثر الأشكال التضاريسية انتشارا في الوطن العربي اسمها **الهضاب** ص ٤٠
- ١٦- يطلق على وزن الهواء فوق أي مكان اسم **الضغط الجوي** ص ٤٤
- ١٧- يستخدم لحاء البلوط والسنديان في صناعه اسمها **الفلين** ص ٥٢
- ١٨- يطلق على الحشائش المعتدلة الاستبس في بلاد المغرب اسم **الحلفا** ص ٥٢
- ١٩- أهم مصادر المياه في الوطن العربي وتمتاز بأنها مياه عذبة اسمها **الأنهار** ص ٥٧
- ٢٠- اعتمدت دولة الكويت على تحلية مياه البحر بمحطة الشويخ منذ عام **١٩٥٣ م** ص ٦٣

٢) اكتب المفاهيم أو المصطلحات الدالّة على العبارات التالية :

المفهوم أو المصطلح	العبرة
١. الوطن العربي ص ٢٢	مجموعة من الدول العربية التي يجمعها عدد من السمات المشتركة ويمتد ضمن قارتين من اكبر قارات العالم مساحتاً
٢. الموقع الإستراتيجي ص ٢٨	أي موقع ذي مكانة مهمة بين دول العالم .
٣. المسطحات المائية ص ٢٨	جميع اشكال المياه على سطح الأرض مثل البحار والخلجان والمحيطات والبحيرات والانهار الخ .
٤. القناة ص ٢٨	مجرى مائي صناعي ضيق يشق لأغراض الري او النقل .
٥. المضيق ص ٢٨	ممر مائي ضيق يصل بين بحرين او محيطين او مساحتين كبيرتين نسبياً من الماء .
٦. الموقع الفلكي ص ٣١	هو نقطه من الكره الأرضية يتحدد موقعها بخطوط الطول ودوائر العرض .
٧. الموقع النسبي ص ٣٣	موقع الدولة بالنسبة لليابس والماء .
٨. الجبل ص ٢٨	هو كل ما ارتفع من الأرض وله قمة لا يقل ارتفاعها عن ١٠٠٠ متر.
٩. الهضبة ص ٤٠	أرض مرتفعة سطحها مستو وتمتد على مساحة كبيرة.
١٠. السهول ص ٤٢	مساحه كبيره من سطح الارض تتميز باستوائها وقله ارتفاعها .
١١. السهول الفيضية (النهرية) ص ٤٢	الأراضي المنخفضة التي تكونت من التربة التي تحملها مياه الانهار .
١٢. السهول الساحلية ص ٤٢	الأراضي المنبسطة التي تجاور سواحل البحار والمحيطات .
١٣. المناخ ص ٤٤	حالة الجو خلال فترة زمنية طويلة من حيث درجة الحرارة والرطوبة والأمطار والرياح
١٤. الطقس ص ٤٤	حالة الجو في مكان لمدة قصيرة تتراوح بين يوم أو عدة أيام من حيث درجة الحرارة والرطوبة والأمطار والرياح والضغط الجوي
١٥. الضغط الجوي ص ٤٤	وزن الهواء فوق أي مكان
١٦. النبات الطبيعي ص ٥١	النبات الذي ينمو تلقائياً عقب سقوط المطر دون تدخل من الإنسان
١٧. الحشائش الحارة (السافانا) ص ٥٢	حشائش طويلة يختلف نوعها حسب كمية الأمطار
١٨. الحشائش المعتدلة (الاستبس) ص ٥٢	حشائش قصيرة نوعاً ما تنمو في الشتاء خلال موسم سقوط الأمطار
١٩. النهر ص ٥٨	مجرى مائي عذب ينحدر على الدوام لينتهي إلى بحر أو إلى نهر آخر أو ينتهي تدريجياً في الصحراء
٢٠. المياه الجوفية ص ٦٠	المياه التي توجد في جوف الأرض
٢١. الأفلاج ص ٦٠	الماء الجاري (مجرى صغير مائي في الأرض)
٢٢. البحيرة ص ٦٠	مسطح المائي الذي تحيط به اليابسة من جميع الاتجاهات

٣) ظلل الخيار الصحيح من بين الخيارات التي تلي كل عبارة :

ص ٢١	١- يمتد الوطن العربي بين قارتي			
	آسيا وأفريقيا	آسيا وأوروبا	آسيا وأستراليا	آسيا وأمريكا الجنوبية
ص ٢٢	٢- تبلغ مساحة الوطن العربي حوالي			
	١٢,٥٠٠ مليون كم ^٢	١٣,٥٠٠ مليون كم ^٢	١٤,٥٠٠ مليون كم ^٢	١٥,٥٠٠ مليون كم ^٢
ص ٢٣	٣- تمثل مساحة الوطن العربي من جملة مساحة العالم نحو			
	١٠%	٢٠%	٣٠%	٤٠%
ص ٢٣	٤- العام الذي انضمت فيه جمهورية جزر القمر إلى الجامعة العربية....			
	١٩٩٢ م	١٩٩٣ م	١٩٩٤ م	١٩٩٥ م
ص ٣٣	٥- القارة المجاورة للوطن العربي من جهة الشمال اسمها			
	آسيا	أوروبا	أستراليا	أمريكا الجنوبية
ص ٣٤	٦- المسطح المائي الذي يحد الوطن العربي من جهة الغرب يسمى			
	البحر المتوسط	المحيط الهندي	المحيط الأطلسي	المحيط الهادي
ص ٣٥	٧- يشكل سكان الوطن العربي بالنسبة لسكان العالم تقريبا حوالي			
	٣%	٤%	٥%	٦%
ص ٤٠	٨- أكثر الأشكال التضاريسية انتشارا في الوطن العربي اسمها			
	التلال	الجبال	السهول	الهضاب

٤) صوب ما تحته خط في العبارات التالية:

الصفحة	الرقم	العبارة	التصويب
٢١	.١	يمتد الوطن العربي بين قارتي آسيا و أوروبا.	أفريقيا
٢٢	.٢	تبلغ مساحة الوطن العربي حوالي ١٤,٥٠٠ مليون كم ^٢	١٣,٥٠٠ مليون كم ^٢
٢٢	.٣	تبلغ مساحة الوطن العربي بالنسبة لمساحة العالم نحو ٣٠٪.	١٠٪
٢٢	.٤	دولة فلسطين انضمت إلى الجامعة العربية في عام ١٩٩٣	جزر القمر
٢٢	.٥	انضمت جمهورية جزر القمر إلى الجامعة العربية في عام ١٩٩٤.	١٩٩٣
٢٢	.٦	تقع جمهورية جزر القمر في المحيط الأطلسي.	الهندي
٣٣	.٧	القارة المجاورة للوطن العربي من جهة الشمال تسمى استراليا.	أوروبا
٣٣	.٨	يحد الوطن العربي من جهة الغرب المحيط الهندي.	الأطلسي
٤٠	.٩	أكثر الاشكال التضاريسية انتشارا في الوطن العربي هي السهول	الهضاب
٥٢	.١٠	يستخدم لحاء البلوط والسنديان في صناعه الحبال	الفلين
٥٢	.١١	يطلق على الحشائش الحارة السافانا في بلاد المغرب اسم الحلفا	الحشائش المعتدلة الاستبس
٥٢	.١٢	نباتات تقاوم الجفاف من خلال عدة وسائل جذورها طويلة هي النباتات الطبيعية	النباتات الصحراوية
٥٢	.١٣	حشائش قصيرة نوعا ما تنمو في الشتاء خلال موسم سقوط الأمطار هي السافانا	الاستبس
٥٢	.١٤	حشائش طويلة يختلف نوعها حسب كمية الأمطار هي الاستبس	السافانا
٥٧	.١٥	من أهم مصادر المياه العذبة في الوطن العربي هي البحيرة	الأنهار
٦١	.١٦	بدأت دولة الكويت تعتمد اعتمادا كاملا على تحلية مياه البحر منذ عام ١٩٥٩م	١٩٥٣م
٦١	.١٧	أول محطة تحلية مياه في دولة الكويت هي محطة الزور	محطة الشويخ
٦٢	.١٨	أكثر الدول العربية استخداما للمياه المحلاة هي ليبيا	الكويت
٦٢	.١٩	تبلغ نسبة استخدام المياه المحلاة في دولة الكويت ٤٦٪	٥٥٪

(٥) أكمل المخططات السهمية التالية:

- مقومات الهوية العربية ص ٢٦



- أشكال المسطحات المائية ص ٢٨



- عناصر المناخ ص ٤٤



الحياة النباتية في الوطن العربي ص ٥٢



مصادر المياه في الوطن العربي ص ٥٧



أشكال المياه الجوفية في الوطن العربي ص ٥٩



(٦) صنف الكلمات التالية إلى مكانها المناسب في الجدول التالي:

١- الأهمية الجغرافية - الأهمية الاقتصادية - الأهمية الحضارية والثقافية ص ٣٥-٣٦

ظهور النفط	أرض الديانات السماوية	يشغل مكان وسط قارات العالم الثلاث
الأهمية الاقتصادية	الأهمية الحضارية والثقافية	الأهمية الجغرافية

٢- مرة - عسير - الصحراء الكبرى - قاسيون - نجد - أطلس ص ٣٩-٤٠


هضاب	جبال
الصحراء الكبرى / نجد	مرة - عسير قاسيون - أطلس

٣- الابل - البوم - الجراد - الأفاعي - الجربوع - العقارب - الحباري - الأرنب - الماعز - الصقور - الخنافس - الفئران ص ٥٥

الحيوانات	الطيور	الحشرات	الزواحف	الحيوانات القارضة
الابل - الأرنب - الماعز	البوم - الحباري - الصقور	الخنافس العقارب الجراد	الأفاعي	الجربوع الفئران

٤- (الشويخ / الاحساء / رأس عبود / أبو فنتاس) ص ٦١

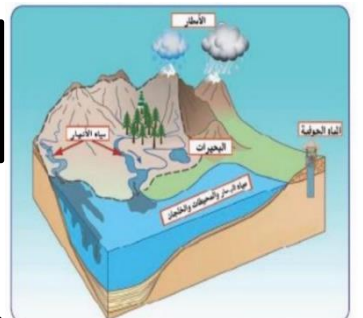
السعودية	قطر	الكويت
الإحساء	رأس عبود / أبو فنتاس	الشويخ



مظاهر سطح الأرض ص ٣٧

(٧) ضع عنوانا مناسباً للأشكال التالية:

مصادر المياه في الوطن
العربي ص ٥٧



(٨) لاحظ خريطة خطوط الطول ودوائر العرض ثم اجب عن الأسئلة

ص ٣١

١- ما هو الخط الاساسي لخطوط الطول؟

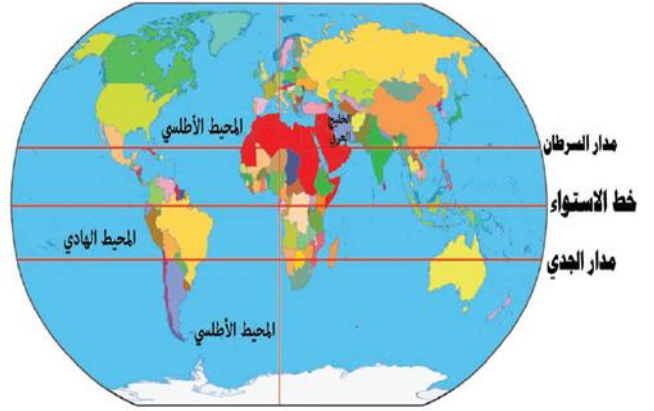
خط جرينتش

٢- ما الدولة العربية التي يمر بها خط الاستواء؟

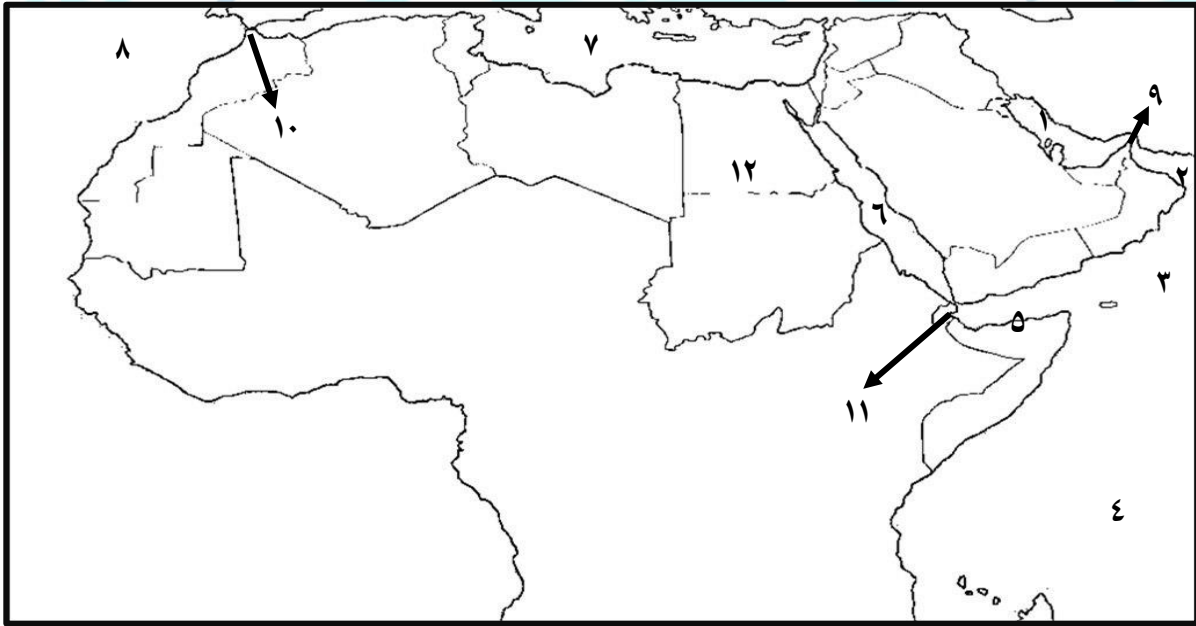
الصومال

٣- كم يبلغ عدد دوائر العرض؟

١٨٠



(٩) أمامك خريطة الوطن العربي نفذ المطلوب :



ص ٢٨

ص ٢٨

ص ٢٨

ص ٢٨

ص ٢٨

ص ٢٨

ص ٢٨

ص ٢٨

ص ٢٨

ص ٢٨

ص ٢٨

ص ٢٨

يشير الرقم (١) إلى سطح مائي اسمه **الخليج العربي**

يشير الرقم (٢) إلى سطح مائي اسمه **خليج عمان**

يشير الرقم (٣) إلى سطح مائي اسمه **بحر العرب**

يشير الرقم (٤) إلى سطح مائي اسمه **المحيط الهندي**

يشير الرقم (٥) إلى سطح مائي اسمه **خليج عدن**

يشير الرقم (٦) إلى سطح مائي اسمه **البحر الأحمر**

يشير الرقم (٧) إلى سطح مائي اسمه **البحر المتوسط**

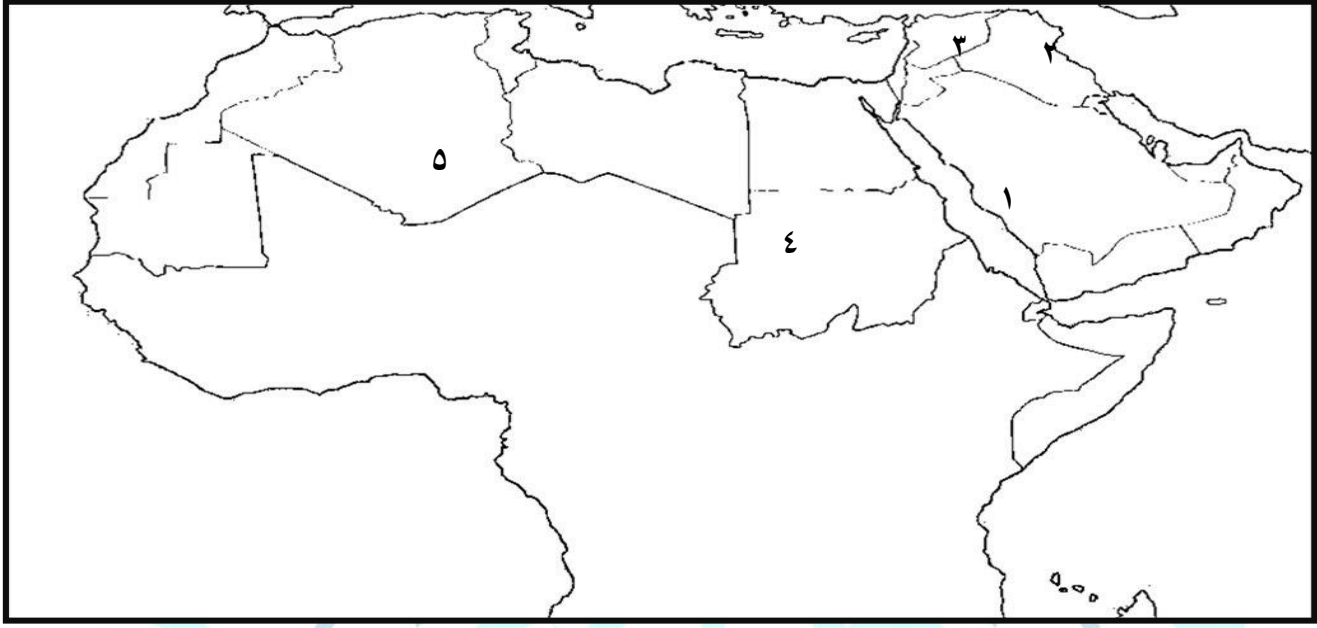
يشير الرقم (٨) إلى سطح مائي اسمه **المحيط الأطلسي**

يشير الرقم (٩) إلى مضيق مائي اسمه **مضيق هرمز**

يشير الرقم (١٠) إلى مضيق مائي اسمه **مضيق جبل طارق**

يشير الرقم (١١) إلى مضيق مائي اسمه **مضيق باب المندب**

يشير الرقم (١٢) إلى الدولة العربية التي توجد بها قناة السويس اسمها **مصر**



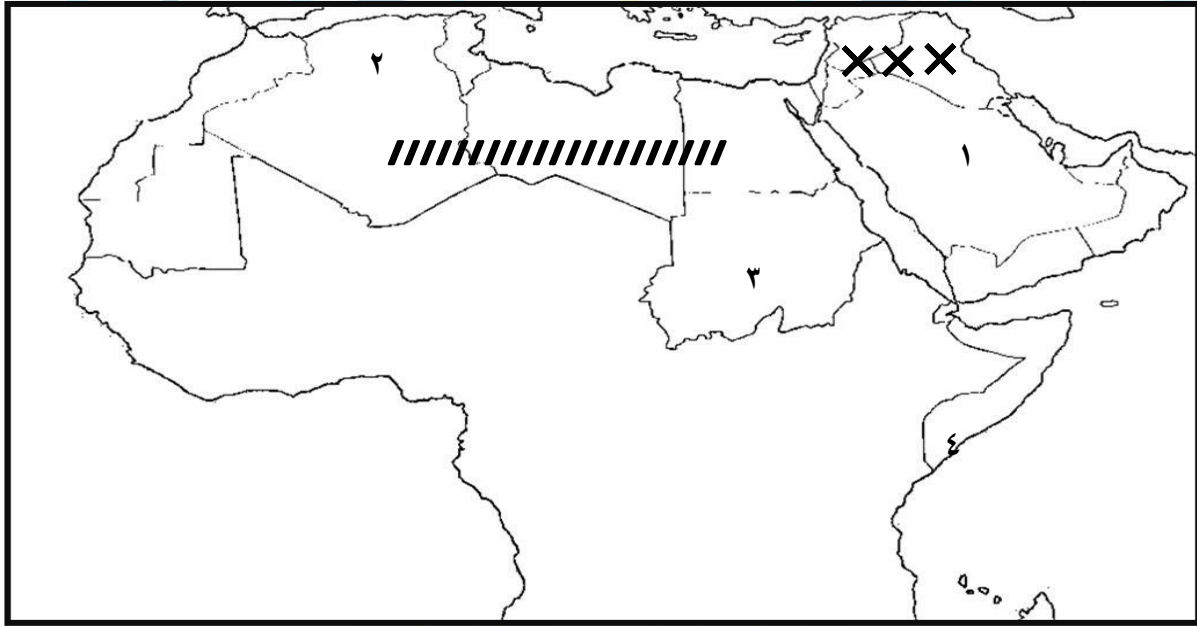
● جبل شيخا دار يمثل الرقم (٢) ص ٢٨

● جبل مره يمثل الرقم (٤) ص ٢٨

● جبال عسير يمثلها الرقم (١) ص ٢٨

● جبل قاسيون يمثل الرقم (٣) ص ٢٨

● جبال الأحجار تمثل الرقم (٥) ص ٣٨



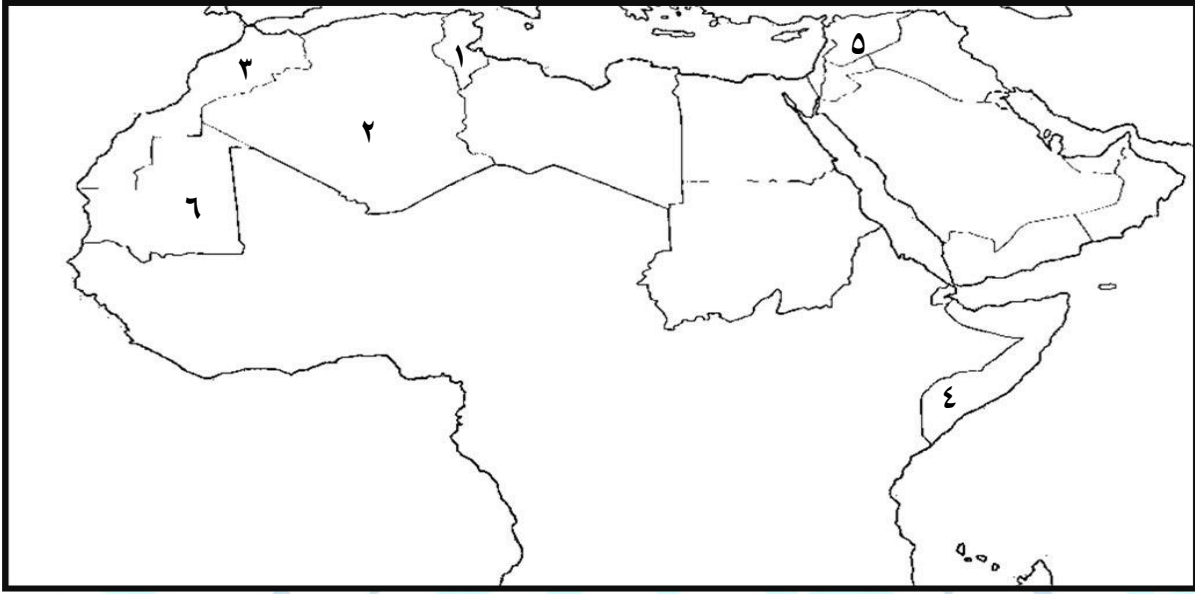
● هضبة نجد يمثلها الرقم (١) ص ٤٠

● هضبة الشطوط يمثلها الرقم (٢) ص ٤٠

● حدد الدول العربية التي توجد بها هضبة الصحراء الكبرى باستخدام الرمز // ص ٤٠

● حدد الدول العربية التي توجد بها هضبة بادية الشام باستخدام الرمز XXX ص ٤٠

أمامك خريطة الوطن العربي الصماء نفذ المطلوب :



ص ٤٢

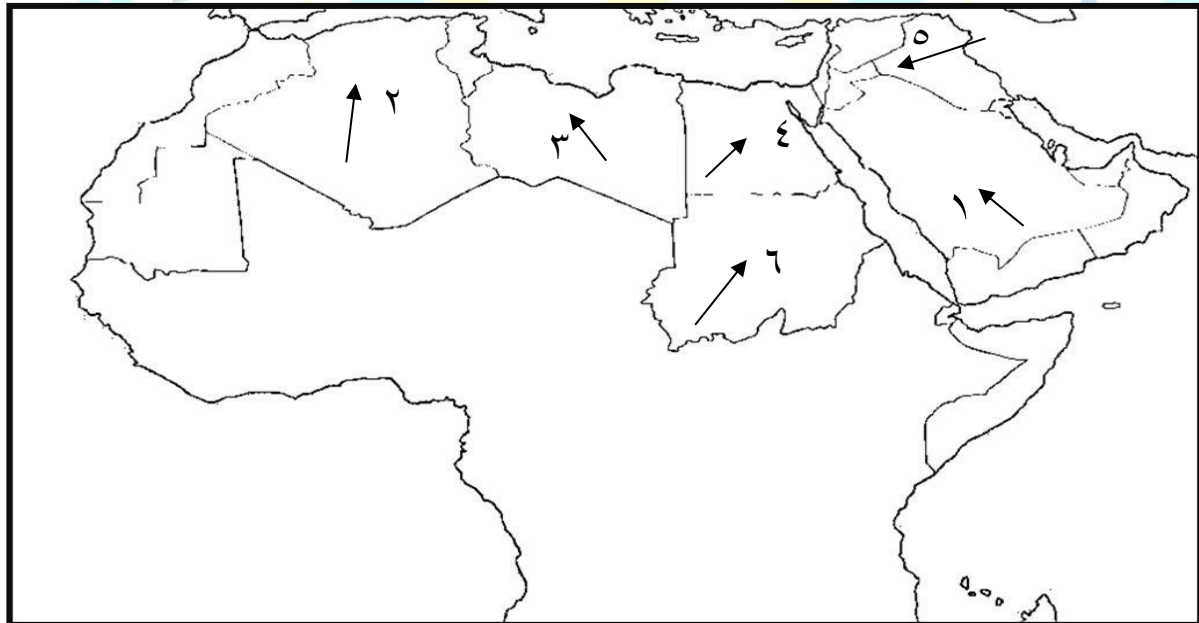
ص ٤٢

ص ٤٢

ص ٤٢

ص ٤٢

- نهر المجردة يمثله على الخريطة الرقم (١)
- نهر الشليف يمثله على الخريطة الرقم (٢)
- نهر السوس يمثله على الخريطة الرقم (٣)
- نهر جوبا يمثله على الخريطة الرقم (٤)
- سهل العلويين يمثله على الخريطة الرقم (٥)



ص ٤٨

ص ٤٨

ص ٤٨

ص ٤٨

ص ٤٨

- رياح الخماسين يمثها على الخريطة الرقم (٤)
- رياح القبلي يمثها على الخريطة الرقم (٣)
- رياح السموم يمثها على الخريطة الرقم (١)
- رياح الشرقية يمثها على الخريطة الرقم (٥)
- رياح الهبوب يمثها على الخريطة الرقم (٦)

ص ٢٨ □

(١) فرق بين كل مما يلي :

القناة	المضيق
مجرى مائي صناعي ضيق يشق لأغراض الري أو النقل	ممر مائي ضيق يصل بين بحرين او محيطين او إلى مساحتين كبيرتين نسبيا من الماء

ص ٤٢ □

السهول الفيضية	السهول الساحلية
الاراضي المنخفضة التي تكونت من التربة التي حملتها مياه الانهار	الاراضي المنبسطة التي تتجاور سواحل البحار والمحيطات

ص ٤٤ □

المناخ	الطقس
هو حالة الجو خلال فترة زمنية طويلة من حيث درجة الحرارة والرطوبة والأمطار والرياح	هو حالة الجو في مكان لمدة قصيرة تتراوح بين يوم أو عدة أيام من حيث درجة الحرارة والرطوبة والأمطار والضغط الجوي

(٢) قارن بين كل مما يأتي :

١/ حشائش السافانا والاستبس من حيث التعريف والاستخدام

ص ٥٢

وجه المقارنة	الحشائش الحارة (السافانا)	الحشائش المعتدلة (الاستبس)
التعريف	هي حشائش طويلة يختلف نوعها حسب كمية الأمطار وتنقسم السافانا إلى (طويلة/ متوسطة / قصيرة).	هي حشائش قصيرة نوعا ما تنمو في الشتاء خلال موسم سقوط الأمطار.
الاستخدام	تربى عليها الماشية	تربى عليها الأغنام والإبل والخيول والحمير صناعة الورق والحبال والحصر

ص ٥٢

٢/ الغابات المدارية الحارة و الغابات المعتدلة من حيث المطلوب

وجه المقارنة	الغابات المدارية الحارة	الغابات المعتدلة
أهم أشجارها	الساج / الماهوجني / التاك / الأبنوس / السدر / الأثل / السنط	الأرز / العرعر / الصنوبر الحلبي / البلوط / السنديان / أشجار الزيتون والتفاح والحمضيات .
مميزات أشجارها	تمتاز بخصامة أشجارها وجذوعها وتشابك أغصانها وأوراقها العريضة وارتفاعها الكبير	تتسم هذا الغابات بعدم كثافتها وبعضها يكون دائم الخضرة وبعضها الآخر تتساقط أوراقه في فصل الشتاء.
استخداماتها	تستخدم أخشابها في البناء وصناعة الأثاث	يستخدم لحاء البلوط والسنديان في صناعة الفلين

(٣) عرف المفاهيم أو المصطلحات التالية:

- ١- الوطن العربي : مجموعة من الدول العربية التي يجمعها عدد من السمات المشتركة ويمتد ضمن قارتين من أكبر قارات العالم مساحتها ٢٢ ص
- ٢- الموقع الإستراتيجي : أي موقع ذي مكانة مهمة بين دول العالم . ص ٢٨
- ٣- المسطحات المائية : جميع اشكال المياه على سطح الأرض مثل البحار والخلجان والمحيطات والبحيرات والأنهار ص ٢٨
- ٤- القناة: مجرى مائي صناعي ضيق يشق لأغراض الري أو النقل ص ٢٨
- ٥- المضيق : ممر مائي ضيق يصل بين بحرين أو محيطين أو مساحتين كبيرتين نسبيا من الماء ص ٢٨
- ٦- الموقع الفلكي: نقطه من الكرة الأرضية يتحدد موقعها بخطوط الطول ودوائر العرض ص ٢١
- ٧- الموقع النسبي: موقع الدولة بالنسبة لليابس والماء ص ٣٣
- ٨- الجبل : كل ما ارتفع من الأرض وله قمة لا يقل ارتفاعها عن ١٠٠٠ متر . ص ٣٨
- ٩- الهضبة : أرض مرتفعة سطحها مستو وتمتد على مساحة كبيرة . ص ٤٠
- ١٠- السهول : مساحة كبيرة من سطح الارض تتميز باستوائها وقله ارتفاعها . ص ٤٢
- ١١- السهول الفيضية (النهرية) : الأراضي المنخفضة التي تكونت من التربة التي تحملها مياه الانهار . ص ٤٢
- ١٢- السهول الساحلية: الأراضي المنبسطة التي تجاور سواحل البحار والمحيطات . ص ٤٢
- ١٣- المناخ: حالة الجو خلال فترة زمنية طويلة من حيث درجة الحرارة والرطوبة والأمطار والرياح ص ٤٤
- ١٤- الطقس: حالة الجو في مكان لمدة قصيرة تتراوح بين يوم أو عدة أيام من حيث درجة الحرارة والرطوبة والأمطار والرياح والضغط الجوي ص ٤٤
- ١٥- الضغط الجوي : وزن الهواء فوق أي مكان ص ٤٤
- ١٦- الإقليم : يعني منطقة أو مكان ص ٤٦
- ١٧- النبات الطبيعي : النبات الذي ينمو تلقائيا عقب سقوط المطردون تدخل من الإنسان ص ٥١
- ١٨- النهر : مجرى مائي عذب ينحدر على الدوام لينتهي إلى بحر أو إلى نهر آخر أو ينتهي تدريجيا في الصحراء ص ٥٨
- ١٩- المياه الجوفية: المياه التي توجد في جوف الأرض (باطن الأرض) ص ٦٠
- ٢٠- الأفلاج : الماء الجاري (وهو مجرى صغير مائي في الأرض) ص ٦٠
- ٢١- البحيرة : مسطح مائي تحيط به اليابسة من جميع الاتجاهات ص ٦٠

(٤) علل لما يلي:

- ١- للوطن العربي أهمية جغرافية ص ٣٥
- يشغل مكانا وسطا بين قارات العالم الثلاث.
- يطل على مسطحات مائية واسعة ذات أهمية كبيرة للملاحة والتجارة العالمية.
- ٢- يتمتع الوطن العربي بأهمية اقتصادية كبيرة منذ القدم ص ٣٥
- يعتبر منطقة عبور لحركة الملاحة والتجارة العالمية
- يعتبر الجسر الذي يربط قارات العالم الثلاث
- ظهور النفط بكميات كبيرة
- ٣- للوطن العربي أهمية حضارية وثقافية ص ٣٧
- قامت على أرضه العديد من الحضارات - هبطت على أرضه الديانات السماوية
- ٤- المدن الساحلية أكثر اعتدالا في المناخ صيفا وأدفا نسبيا شتاء ص ٤٦
- لأن البحر يلطف من درجة حرارتها .
- ٥- ترتفع درجة الحرارة في بعض المدن مثل الرياض والقاهرة بينما تنخفض درجة الحرارة في الفصل نفسه في المناطق المرتفعة مثل جبال سوريا ولبنان والطائف في السعودية ص ٤٦
- لأن التضاريس تؤثر بصورة مباشرة من ناحية درجة الحرارة وتوزيع كمية الأمطار.
- ٦- ارتفاع الحرارة في وسط الوطن العربي صيفا ص ٤٩
- لأن الشمس تكون عمودية على المنطقة الواقعة بين خط الاستواء ومدار السرطان .
- ٧- ارتفاع الحرارة جنوب الوطن العربي شتاء ص ٤٩
- لأن الشمس تكون عمودية على المنطقة الواقعة بين خط الاستواء ومدار الجدي .
- ٨- تنوع النبات الطبيعي في الوطن العربي ص ٥١
- نتيجة اختلاف نوع التربة والمناخ وكمية الأمطار ومواسمها .
- ٩- تختلف نوع الحشائش الحارة (السافانا) في دول الوطن العربي ص ٥٢
- بسبب اختلاف كمية الأمطار
- ١٠- قدرة النباتات الصحراوية على تخزين المياه ص ٥٢
- لأنها تمتلك لحاء سميك وأوراق إبرية .

(٥) أجب عن ما يلي :

ص ٣٥

١- ما النتائج المترتبة على تمتع الوطن العربي بأهمية جغرافية
● تنافس الدول الاستعمارية للاستيلاء عليه وتقسيمه لعدة دول

ص ٤٥

٢- عدد عناصر المناخ
● درجة الحرارة - الرطوبة - الأمطار - الضغط الجوي - الرياح

ص ٤٦

٣- ما العوامل التي تؤثر في مناخ الوطن العربي
● الموقع بالنسبة لدوائر العرض
● القرب أو البعد عن المسطحات المائية
● التضاريس
● الرياح

ص ٤٦

٤- كيف تؤثر التضاريس على المناخ بصورة مباشرة
● درجة الحرارة
● توزيع كمية الأمطار

ص ٤٦

٥- كيف تؤثر الرياح على المناخ بصورة مباشرة
● ارتفاع وانخفاض درجة الحرارة
● كمية الأمطار
● نسبة الرطوبة

ص ٥١

٦- ما العوامل التي تؤثر في تنوع النبات الطبيعي في الوطن العربي
● نوع التربة
● المناخ

ص ٥٢

٧- ما أنواع الحياة النباتية في الوطن العربي
● الغابات
● الحشائش
● النباتات الصحراوية

ص ٥٢

٨- عدد وسائل مقاومة النباتات الصحراوية للجفاف
● جذورها طويلة
● تحمي نفسها بلحاء سميك وأوراق إبرية
● القدرة على خزن المياه

ص ٥٥

٩- عدد أهم الحيوانات السائدة في المنطقة الصحراوية
الحيوانات : (الإبل - الماعز - الضب - الأرناب البرية)
الطيور (الصقور / البوم / الحباري)
الحشرات (الجراد / العقارب / الخنافس)
الزواحف (الأفاعي)
الحيوانات القارضة (الفنران / الجربوع)

ص ٥٧

١٠- عدد مصادر المياه في الوطن العربي
الأنهار - البحيرات - المياه الجوفية - الأمطار - البحار والمحيطات والخلجان

ص ٥٩

١١- ما صفات الأمطار في الوطن العربي:

- تذبذب كمية الأمطار بين عام وآخر ، كما أنها تسقط في أيام معدودة .
- تكاد تقتصر على الأطراف الشمالية والأطراف الجنوبية منها .
- قليلة بصفة عامة ، ولا يستثنى من ذلك سوى المناطق التي تقع من ورائها الجبال ، كما هي الحال في سواحل المغرب وساحل لبنان .

ص ٥٩

١٢- ما أشكال المياه الجوفية

- الآبار الجوفية - العيون - الينابيع - الأفلاج

ص ٦١

١٣- عدد محطات التحلية في الوطن العربي

- الإحساء في السعودية - رأس عبود وأبو فنتاس في قطر - الشويخ في الكويت

ص ٦٣

١٤- ما طرق ترشيد استخدام المياه

- ترشيد استخدام المياه والحد من التبذير في المنازل
- الحد من هدر المياه في عمليات الري ، وذلك باستخدام الوسائل الحديثة كالرش بالتنقيط والمحوري .
- تنظيم عملية الاستفادة من المياه الجوفية ومنع تسرب الأملاح الملوثة إليها واستثمارها على الوجه الأمثل .
- تطوير استعمال مياه الصرف الصحي المعالجة في الزراعة .
- إقامة البحيرات والسدود لتجميع مياه الأمطار والسيول للاستفادة منها في فصل الجفاف .
- توقيع اتفاقيات مع الدول المشاركة ودول المنبع لتحقيق مصالح الدول العربية المعنية .



الأسئلة الموضوعية

١. أكمل العبارات التالية بما يناسبها فيما درست :

١. أكثر الحضارات القديمة في العالم والأكثر انتشاراً اسمها الحضارة المصرية ص ٧٤
٢. عرفت الكتابة عند الحضارة المصرية باسم الهيروغليفية ص ٧٧
٣. الورق المستخدم في الكتابة عند المصريين اسمه ورق البردي ص ٧٤
٤. سيطر على بلاد الرافدين خلال تاريخها القديم ٥ شعوب ص ٧٩
٥. يطلق اسم بلاد الرافدين أو بلاد ما بين النهرين على دولة عربية حالياً اسمها العراق ص ٧٩
٦. اخترع السومريون نوعاً من الكتابة عرفت باسم الكتابة المسمارية ص ٨٣
٧. أقدم كتابة في العالم عرفت باسم الكتابة المسمارية ص ٨٣
٨. عدد حروف الكتابة المسمارية يبلغ ٦٠٠ حرفاً. ص ٨٣
٩. أقدم أنواع الكتابة في العالم وحروفها تشبه المسمار اسمها الكتابة المسمارية ص ٨٣
١٠. ظهرت شرائع قانونية قديمة من أهمها شريعة حمورابي في بلاد الرافدين ص ٨٤
١١. يبلغ عدد المواد القانونية لشريعة حمورابي التي ظهرت في بلاد الرافدين ٢٨٢ مادة ص ٨٤
١٢. تقع أكثر مناطق شبه الجزيرة العربية ملائمة لقيام الحضارة في جهة جنوب غرب الجزيرة ص ٨٥
١٣. تأسست حضارة جنوب غرب شبه الجزيرة العربية منذ الألف الثالث ق م ص ٨٥
١٤. أشهر ملوك سبأ التي ورد ذكرها في القرآن الكريم اسمها بليقيس ص ٨٦
١٥. أشهر ممالك اليمن القديمة التي ورد ذكرها في القرآن الكريم مملكة اسمها سبأ ص ٨٦
١٦. أشهر سدود جنوب غرب شبه الجزيرة العربية اسمه سد مأرب ص ٨٦
١٧. الخط الذي كانت تكتب به الأبجدية اسمه الخط المسند ص ٨٧
١٨. عدد حروف الأبجدية في حضارة جنوب غرب شبه الجزيرة العربية تتألف من ٢٩ حرفاً ص ٨٧
١٩. لقبو بأسياذ التجارة العربية هم أهل اليمن ص ٨٧
٢٠. حضارة تقع وسط حضارات الشرق القديم اسمها دلمون ص ٨٨
٢١. الاسم الذي أطلق على البحرين قديماً قبل الفتح الإسلامي أوال ص ٨٩
٢٢. العام الذي انزل فيه القرآن الكريم على سيدنا محمد في مكة المكرمة ٦١٠ م ص ٩٠
٢٣. للحضارة العربية الإسلامية فضل كبير في إثراء الحضارة الأوروبية منذ القرن العاشر الميلادي ص ٩٢

٢) اكتب المفاهيم أو المصطلحات الدالّة على العبارات التالية:

المفهوم أو المصطلح	العبرة
١) الحضارة ص ٢١	كل ما يطرأ على المجتمع من تقدم وتطور في جميع نواحي الحياة الدينية والسياسية والاقتصادية والاجتماعية والفكرية
٢) بلاد الرافدين ص ٢٩	بلاد ما بين النهرين , ويطلق عليها حالياً اسم العراق
٣) أوال ص ٨٩	اسم يطلق على البحرين قديماً نسبة إلى صنم اسمته أوال كانت تعبدته قبيلته وائل التي حكمت البحرين آنذاك
٤) الديانة اليهودية ص ٩٠	الديانة التي نزلت على سيدنا موسى عليه السلام وكتابها التوراة
٥) الديانة المسيحية ص ٩٠	الديانة التي نزلت على سيدنا عيسى ابن مريم عليه السلام وكتابها الانجيل
٦) الديانة الإسلامية ص ٩٠	الديانة التي نزلت على سيدنا محمد صلى الله عليه وسلم عام ٦١٠م في مكة المكرمة وكتابها القرآن الكريم

٣) ظلل الخيار الصحيح من بين الخيارات التي تلي كل عبارة:

ص ٧٩	١/ يطلق اسم بلاد الرافدين أو بلاد ما بين النهرين على دولة عربية حالياً اسمها:			
	أ. العراق	ب. سوريا	ج. الصومال	د. المغرب
ص ٨٣	٢/ عدد حروف الكتابة المسمارية يبلغ:			
	أ. ٥٠٠	ب. ٦٠٠	ج. ٧٠٠	د. ٨٠٠
ص ٨٤	٣/ ظهرت شرائع قانونية قديمة من أهمها شريعة حمورابي في بلاد:			
	أ. اليمن	ب. الشام	ج. الرافدين	د. دلمون
ص ٨٢	٤/ حروف الأبجدية في حضارة جنوب غرب شبه الجزيرة العربية تتألف من:			
	أ. ٢٨ حرفاً	ب. ٢٩ حرفاً	ج. ٣٠ حرفاً	د. ٣١ حرفاً

٤) صوب ما تحته خط في العبارات التالية:

الصفحة	الرقم	العبرة	التصويب
٧٩	١.	يطلق اسم بلاد الرافدين أو بلاد ما بين النهرين على دولة عربية تسمى <u>الجزائر</u>	العراق
٨٣	٢.	الكتابة التي اخترعها السومريون قديماً تسمى <u>الهيروغليفية</u>	المسمارية
٨٣	٣.	عدد حروف الكتابة المسمارية يبلغ ٥٠٠ حرف	٦٠٠ حرف
٨٤	٤.	ظهرت شرائع قانونية قديمة من أهمها شريعة حمورابي في <u>بلاد الشام</u>	بلاد الرافدين
٨٥	٥.	أهم مدن حضارة سبأ مدينة تسمى <u>قرناو</u>	مأرب
٨٦	٦.	اشهر ملوك سبأ التي ورد ذكرها في القران الكريم ملكة اسمها <u>نفرتي</u>	بلقيس
٨٦	٧.	اشهر ممالك اليمن القديمة ورد ذكرها في القران الكريم تسمى <u>حمير</u>	سبأ
٨٧	٨.	الخط الذي كانت تكتب به الابجدية في حضارة جنوب غرب شبه الجزيرة العربية يسمى <u>خط النسخ</u>	المسند
٨٧	٩.	حروف الابجدية في حضارة جنوب غرب شبه الجزيرة العربية تتألف من <u>٢٨ حرف</u>	٢٩ حرف

٥) استنتج الرابط بين العناصر التالية:

١. بلاد الرافدين + دلمون + بلاد اليمن + بلاد الشام + مصر القديمة = (حضارات الوطن العربي) ص ٧١
٢. الموقع الاستراتيجي + توافر مصادر المياه + اعتدال المناخ + توفر الثروات الطبيعية + العنصر البشري = (مقومات قيام الحضارة) ص ٧٣
٣. السومريون + الأكاديون + الكلدانيون + البابليون + الآشوريون = (الحضارات التي قامت في بلاد الرافدين) ص ٨٠
٤. القمح + الفواكه + البقول + الكتان = (محاصيل زراعية موجودة في الحضارة المصرية القديمة) ص ٧٦
٥. الهندسة + الحساب + الفلك + الطب = (علوم) ص ٨٢
٦. النحت + البناء + الرسم الأواني الفخارية = (فنون في حضارة بلاد الرافدين) ص ٨٢
٧. معين + سبأ + حمير = (حضارات بلاد اليمن) ص ٨٥
٨. الإسلامية + اليهودية + المسيحية = (الديانات السماوية) ص ٩٠
٩. الأندلس + صقلية + الاحتلال الصليبي لبلاد الشام = (مراكز انتقال الحضارة العربية الإسلامية إلى أوروبا) ص ٩٢

٦) ضع الحرف (أ) أمام العبارة الصحيحة، والحرف (ب) أمام العبارة الخاطئة مع التصويب:

الصفحة	الرقم	العبارة	أ	ب	التصويب
٧٧	١	تعتبر الاهرامات من مظاهر الحضارة المصرية القديمة			
٧٩	٢	سيطر على بلاد الرافدين خلال تاريخها القديم ثلاثة شعوب متتالية			خمسة شعوب
٧٩	٣	سميت الحضارات التي قامت في بلاد الرافدين بأسماء المناطق والمدن التي قامت فيها			
٨٣	٤	عدد حروف الكتابة المسمارية يبلغ ٥٠٠ حرف			٦٠٠ حرف
٨٤	٥	يبلغ عدد المواد القانونية لشريعة حمورابي ٢٨١ مادة			٢٨٢ مادة
٨٧	٦	عرفوا أهل اليمن بأنهم أسياذ التجارة العربية			
٨٨	٧	قامت دلمون وسط حضارات الشرق القديم			
٩٠	٨	نزل القرآن الكريم على سيدنا محمد صلى الله عليه وسلم عام ٦٢٠ م			عام ٦١٠ م
٩٠	٩	نزل القرآن الكريم على سيدنا محمد صلى الله عليه وسلم في مكة المكرمة			
٩٠	١٠	يعتبر الإسلام خاتم الرسالات السماوية جميعا			
٩٠	١١	الكتاب الذي أنزل على سيدنا عيسى ابن مريم - عليه السلام - اسمه التوراة			الإنجيل
٩٢	١٢	للحضارة العربية الإسلامية فضل في إثراء الحضارة الأوروبية منذ القرن ١٠ م			

(٧) من أنا:

ص ٨٤



أنا ملك بابل
احتوت شرائعي
على ٢٨٢ مادة
اسمي حمورابي

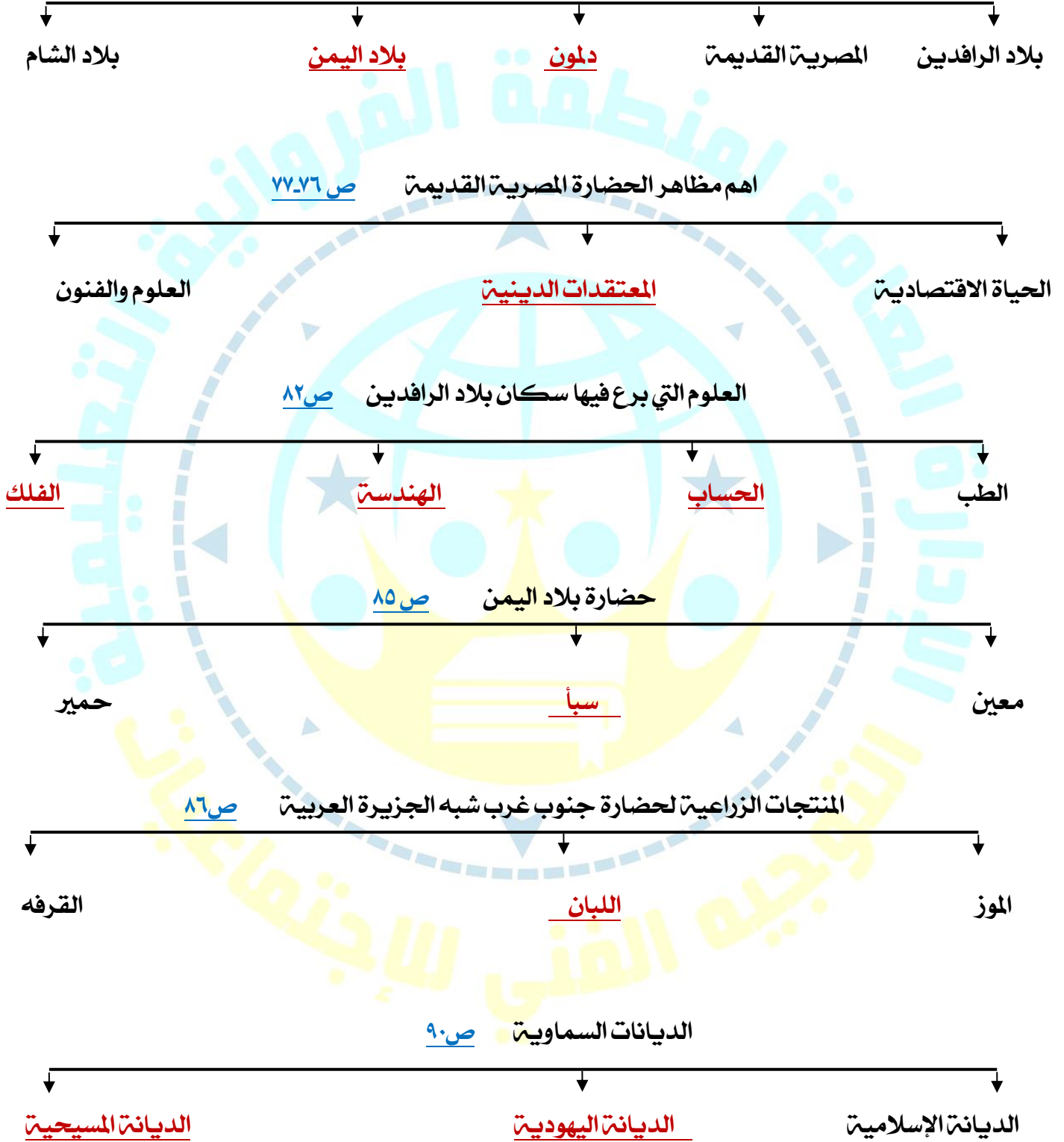
ص ٨٦

أنا ملكة
حكمت مملكة
سبا أشير لي بالقرآن
الكريم
اسمي بلقيس



(٨) أكمل المخططات السهمية التالية:

الحضارات في الوطن العربي ص ٧٢



(٩) اختر للمجموعة (أ) ما يناسبها من المجموعة (ب) وذلك بوضع الرقم المناسب :

ص ٨٥

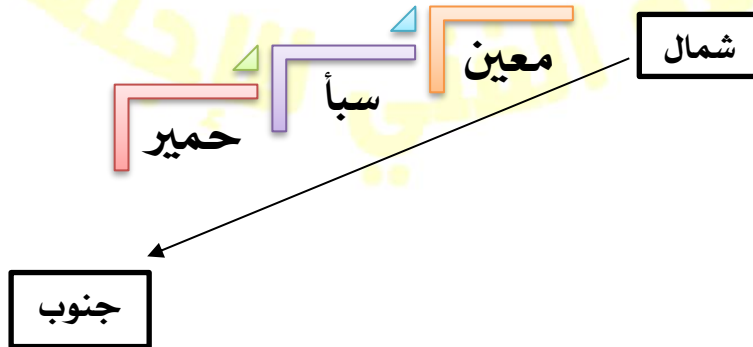
العاصمة	الرقم	الحضارة
قرناو	٣	١ / حمير
مأرب	١	٢ / معين
ريدان	٢	٣ / سبأ
	-	٤ / دلمون

ص ٩٠

الديانة	الرقم	الكتاب
الديانة الاسلامية	٣	١ / كتاب الانجيل
الديانة المسيحية	١	٢ / كتاب التوراة
الديانة اليهودية	٢	٣ / القرآن الكريم
	-	٤ / كتاب الزبور

(١٠) أعد ترتيب حضارات بلاد اليمن تصاعدياً من الشمال الى الجنوب : ص ٨٥

(سبأ - حمير - معين)



١١ / لاحظ الشكل المقابل ، ثم أجب عن الأسئلة التالية :



١- ما اسم الشخصية في الصورة المقابلة؟ ص ٨٤

حمورابي

٢- كم يبلغ عدد المواد القانونية لشريعته؟ ٢٨٢ مادة

٣- ما أهم ما اشتهر به؟ شريعة حمورابي

٤- ما المبدأ الذي اعتمد عليه؟ السن بالسن والعين بالعين

٥- ما النتائج المترتبة على تطبيق المبدأ .

انتشار الأمن والأمان في البلاد

لاحظ الشكل المقابل ثم أجب على الأسئلة التالية: ص ٨٣

١- الشكل المقابل يمثل نوع من أنواع الكتابة

اسمها الكتابة المسمارية

٢- ما الأدوات المستخدمة في الكتابة المسمارية؟

أ- ألواح من الطين ب- أقلام تشبه المسامير

٣- كم بلغ عدد حروف الكتابة المسمارية؟

٦٠٠ حرف

أ	ب	ج	د
هـ	و	ز	ح
ط	ي	ك	ل
م	ن	س	ع
ف	ق	ص	غ
ط	ي	ك	ل
م	ن	س	ع
ف	ق	ص	غ

١٢ / ضع عنوانا مناسباً لـ... (الصور- الأشكال- الخرائط- المعلومات- ... الخ) التالية:



طبيعة بلاد الرافدين ص ٨١



حدائق بابل المعلقة ص ٨٢



عقد بابلي ص ٨٢



مسلة حمورابي
ص ٨٤



راس الثور ص ٨٨



أنية فخارية تعود
للعصر الأكادي ص ٨٢



نقش سبأ بالخط المسند ص ٨٥



مدينة نينوى الدينية معين
ص ٨٥

ختم يعود لحضارة دلمون ص ٨٨



مائدة قرايين تعود لمملكة حمير ص ٨٥

(١٣) ضع عنوانا مناسباً للخريطة التالية :



خريطة توضح مملكة البحرين ص ٨٨ خريطة توضح حضارات بلاد اليمن ص ٨٥ خريطة توضح الممالك التي قامت في بلاد الرافدين ص ٧٩

الأسئلة المقالية :

(١) عرف المفاهيم أو المصطلحات التالية :

الحضارة: كل ما يطرأ على المجتمع من تقدم وتطور في جميع نواحي الحياة الدينية والسياسية

ص ٢١

والاقتصادية والاجتماعية والفكرية

ص ٧٩

٢. بلاد الرافدين : وتعني بلاد ما بين النهرين ، ويطلق عليها حاليا اسم العراق

٣. أوائل : اسم أطلق على البحرين قديما نسبة إلى صنم اسمه أوائل كانت تعبده قبيلة وائل التي

ص ٨٩

حكمت البحرين آنذاك .

ص ٩٠

٤. الديانة اليهودية : الديانة التي نزلت على سيدنا موسى عليه السلام وكتابها التوراة .

ص ٩٠

٥. الديانة المسيحية : الديانة التي نزلت على سيدنا عيسى بن مريم عليه السلام وكتابها الإنجيل .

ص ٩٠

٦. الديانة الإسلامية : الديانة التي نزلت على سيدنا محمد صلى الله عليه وسلم عام ٦١٠ م في

مكة المكرمة وكتابها القرآن الكريم

(٢) عدد ما يلي:

١- العوامل التي ساعدت على قيام الحضارة المصرية القديمة:
أ- تنوع الصخور والمعادن ب- امتداد الصحراء ج- اعتدال المناخ وجفافه ص ٧٥

٢- العوامل التي ساعدت على ازدهار الزراعة في بلاد الرافدين:
أ- الموقع الممتاز ب- خصوبة تربتها ج- وفرة مياهها العذبة ص ٧٩

٣- الحضارات المجاورة لحضارة جنوب غرب شبه الجزيرة العربية:
أ- حضارة بلاد مصر القديمة ب- حضارة بلاد الشام ج- حضارة بلاد الرافدين ص ٨٦

٤- طرق انتقال الحضارة العربية الإسلامية إلى أوروبا:
أ- الأندلس ب- صقلية ج- الاحتلال الصليبي لبلاد الشام ص ٩٢

٥- الصناعات التي اشتهرت بها بلاد الرافدين:
أ- صناعة الحلي ب- الأواني الفخارية ص ٨٢

٦- أهم الأنشطة الاقتصادية لحضارة دلمون:
أ- الزراعة ب- صيد الأسماك ج- الغوص على اللؤلؤ ص ٨٨

(٣) علل ما يلي:

١. كان للعوامل الطبيعية دور مهم في قيام الحضارة المصرية القديمة
أ- ساعد على تطويرها ب- حمايتها من الغزوات
ج- سهولة الدفاع عنها واستقرار سكانها وممارستهم للأنشطة المختلفة ص ٧٤

٢. حرص المصريون القدماء على تحنيط جثث موتاهم
أ- لاعتقادهم أن الحياة تعود إلى الجسم بعد الموت
ب- لاعتقادهم بالبعث والخلود ص ٧٦

٣. منطقة جنوب غرب شبه الجزيرة العربية من أكثر مناطق شبه الجزيرة العربية ملائمة لقيام الحضارة
أ- توافر المياه العذبة ب- المناخ المناسب لقيام الزراعة ص ٨٥

٤. تعد حضارة دلمون مركزاً مهماً للمواصلات والتجارة البحرية
• بحكم موقعها وسط الخليج العربي ص ٨٨

٥. عاشت أوروبا في عصور الظلام
• بسبب سيطرة الكنيسة على عقول الناس ص ٩٢

(٤) برهن على صحة العبارة التالية:

ص ٢٦

١/ (أمن المصريون بفكرة البعث والخلود)

❖ بناء القبور

❖ إقامة المعابد الفخمة

٢/ اهتمام سكان جنوب غرب شبه الجزيرة العربية بالمشاريع الزراعية:

❖ تنظيم عملية الري

❖ بناء السدود والخزانات

ص ٨٦

(٥) صنف الكلمات التالية الى مكانها المناسب في الجدول التالي:

ص ٧٥

١. (نهر النيل - تنوع الصخور والمعادن - اعتدال المناخ وجفافه)

ساعدت المصريين على نحت التماثيل وبناء المعابد	المحافظة على الاثار من التلف	ربط بين اجزاء البلاد من الشمال الى الجنوب وساعدت على الاستقرار
تنوع الصخور والمعادن	اعتدال المناخ وجفافه	نهر النيل

ص ٨١

٢. المنسوجات - المعادن - الأحجار - المنتجات الزراعية - الأخشاب

الواردات الى بلاد الرافدين	الصادرات من بلاد الرافدين
المعادن - الأحجار - الأخشاب	المنتجات الزراعية - المنسوجات

ص ٩٠

٣. (الانجيل - موسى عليه السلام - القرآن الكريم - عيسى عليه السلام - التوراة - محمد ﷺ)

الديانة اليهودية	الديانة المسيحية	الديانة الإسلامية	البند
التوراة	الانجيل	القرآن الكريم	الكتاب
موسى عليه السلام	عيسى عليه السلام	محمد ﷺ	النبي

ص ٢٧-٨٥٨٢

٤. (المسمارية - الهيروغليفية - الابجدية)

حضارة بلاد اليمن	حضارة بلاد الرافدين	الحضارة المصرية
الابجدية	المسمارية	الهيروغليفية

ص ٩٢

٥. (الصلاة - الشورى - العدل - الصوم - المساواة - الزكاة)

مبادئ الإسلام	أسس الحضارة
الشورى - العدل - المساواة	الصلاة - الصوم - الزكاة

(٦) قارن بين كل من التالي:

١/ مقومات قيام الحضارة في الحضارة المصرية وحضارة بلاد الرافدين من حيث المطلوب:

وجه المقارنة	الحضارة المصرية القديمة	حضارة بلاد الرافدين
مصادر المياه العذبة	نهر النيل	نهري دجلة والفرات
توافر الثروات الطبيعية	امتداد الصحراء / خصوبة التربة الصخور / المعادن	خصوبة التربة
أهم المحاصيل الزراعية	القمح - الفواكه - البقول - الكتان	الزراعة
أهم الصناعات	الأواني الفخارية والمعدنية الملابس الكتانية - السفن - الورق	المنسوجات - الصوفية - الحلى الأواني الفخارية
المعتقدات الدينية	اعتقادهم بفكرة البعث والخلود تحنيط جثث موتاهم	ظهور شرائع قانونية (شريعة حمورابي)
العلوم والفنون	الفلك - الكيمياء التحنيط - النحت والبناء	الهندسة - الحساب - الفلك - الطب - فن النحت - البناء - الرسم
نوع الكتابة	الهيروغليفيّة	المسمارية

ص ٨٥

٢/ حضارات بلاد اليمن من حيث المطلوب:

وجه المقارنة	معين	سبأ	حمير
العاصمة	قرناو	مأرب	ريدان
أهم معالمها	مدينة يثرب الدينية	نقش سبأ سد مأرب	مائدة قرايين

٣/ الكتابة في حضارة بلاد الرافدين وبلاد اليمن من حيث المطلوب:

وجه المقارنة	حضارة بلاد الرافدين	حضارة وبلاد اليمن
اسم الكتابة	المسمارية	الأبجدية
عدد الأحرف	٦٠٠ حرف	٢٩ حرف

(٧) أجب عن ما يلي:

١. ما اسم النهرين في بلاد الرافدين:
أ- **نهر دجلة - نهر الفرات**
٢. ما هي جهود سكان بلاد الرافدين في الزراعة
أقاموا السدود على الأنهار بد جففوا المستنقعات ج- استصلحوا الأراضي
٣. اكتب اثنين من المظاهر الحضارية لحضارة جنوب غرب شبه الجزيرة العربية
أ- **عملوا بالمشاريع الزراعية بد سيطروا على الطرق التجارية**
٤. ما هي أشهر المنتجات الزراعية لحضارة جنوب غرب شبه الجزيرة العربية
- **الموز- اللبان- القرفة**
٥. اذكر حضارتين من الحضارات المجاورة لحضارة دلمون:
أ- **حضارة بلاد الرافدين بدحضارة بلاد الشام**
٦. اما الأنشطة الاقتصادية لسكان حضارة دلمون
أ) **صيد الأسماك ب) الزراعة ج) الغوص على اللؤلؤ**
٧. ما هي أسس التي بنيت عليها الحضارة الاسلامية؟
❖ **الصلاة في نظامها ومواقيتها**
❖ **الصوم والزكاة التي تحقق التكافل الاجتماعي**

(٨) اقرأ الفقرة التالية ثم أجب عما يليها من أسئلة:

نشطت الحياة في مصر القديمة بجميع نواحيها حيث تقدمت الزراعة وتطورت اساليبها وتنوعت المحاصيل الزراعية كالبقول والقمح والفواكه والكتان وتربية الماشية وقد مهر المصريين القدماء في الصناعة ايضا وخاصة صناعة الاواني الفخارية والمعدنية والملابس الكتانية والسفن والورق **ص ٧٦**

- ١- اقترح عنواناً مناسباً للفقرة (الاقتراحات تكون من ذهن المتعلم ولا تكون مذكورة في الكتاب)
- **الحياة الاقتصادية في الحضارة المصرية القديمة**
- ٢- اذكر اهم الصناعات في الحضارة المصرية القديمة:
- **الاواني الفخارية والمعدنية-الملابس الكتانية-السفن-الورق**
- ٣- عدد اهم المحاصيل الزراعية:
- **القمح - الفواكه - البقول - الكتان**

(٨) أمامك خريطة الوطن العربي أكتب الرقم الدال على العبارات التالية: ص ٢١



- حضارة دلمون تمثل رقم (٣)
- الحضارة المصرية القديمة تمثل رقم (١)
- حضارة بلاد الشام تمثل رقم (٥)
- حضارة بلاد اليمن تمثل رقم (٢)
- حضارة بلاد الرافدين تمثل رقم (٤)
- بحر القلزم يمثل على الخريطة الرقم (٧)
- بحر العرب يمثل على الخريطة الرقم (٦)